

## PHIẾU ÔN TẬP SỐ 1

### Phần I: Trắc nghiệm

1. Số liền trước của 90 là:

- A. 91                      B. 89                      C. 79

2. Số bé nhất có một chữ số là:

- A. 1                      B. 0                      C. 9

3. Số tròn chục lớn nhất có hai chữ số là:

- A. 10                      B. 99                      C. 90

4. Kết quả của phép tính:  $87 - 34 = \dots$

- A. 53                      B. 43                      C. 44

5. Hoa có 24 nhãn vở. Hoa được Mai tặng 13 nhãn vở nữa. Hỏi Hoa có bao nhiêu nhãn vở?

- A. 11 nhãn vở                      B. 37 nhãn vở                      C. 55 nhãn vở

### Phần II: Làm các bài tập sau

#### Bài 1: Đặt tính rồi tính

$42 + 36$

$78 - 54$

$49 - 16$

$24 + 45$

.....

.....

.....

#### Bài 2: Tính

a,  $43 + 26 - 17 = \dots$

$= \dots$

b,  $68 - 32 + 43 = \dots$

$= \dots$

Bài 3: Mẹ Lan đi chợ mua ba chục quả trứng gà và 15 quả trứng vịt. Đố em mẹ Lan mua tất cả bao nhiêu quả trứng gà và vịt?

.....

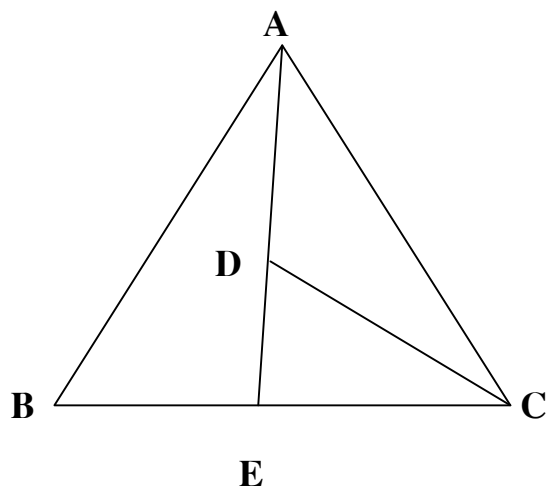
.....

.....

.....

**Bài 4:** Đếm xem hình vẽ sau có tất cả bao nhiêu đoạn thẳng? Kể tên các đoạn thẳng đó?

Có bao nhiêu hình tam giác? Kể tên các hình tam giác đó?



.....

.....

.....

.....

.....

.....

## PHIẾU ÔN TẬP SỐ 2

### Phần A: Trắc nghiệm

1. Số 90 là số liền sau của:

A. 91

B. 89

C. 92

2. Số 69 là số liền trước của:

A. 68

B. 70

C. 71

3. Hiệu của số lớn nhất có hai chữ số mà chữ số hàng chục là 7 và số lớn nhất có một chữ số là:

A. 79

B. 70

C. 8

4. Tổng của số chẵn lớn nhất có một chữ số và số liền sau của nó là:

A. 17

B. 18

C. 19

5. Sơn có 46 que tính vàng và đỏ. Trong đó số que tính vàng là số bé nhất có hai chữ số. Đố em tính được số que tính đỏ của Sơn?

A. 56

B. 36

C. 42

### Phần B: Làm các bài tập sau

#### Bài 1: Tính

a,  $49 + 15 - 32 = \dots\dots\dots$

$= \dots\dots\dots$

b,  $59 - 41 + 48 = \dots\dots\dots$

$= \dots\dots\dots$

#### Bài 2: Tính nhanh

a,  $2 + 4 + 6 + 8 + 10 + 12 + 14 + 16 + 18$

.....

.....

.....

.....

.....

b,  $53 + 28 + 46 + 39 - 8 - 43 - 36 - 19$

.....

.....

.....

.....

.....

**Bài 3:** Từ các chữ số 2,4,3 em hãy lập tất cả các số có hai chữ số rồi xếp các số đó theo thứ tự từ lớn đến bé.

.....

.....

.....

.....

**Bài 4:** Lớp 2a2 có tất cả 53 học sinh nam và nữ. Trong đó có 23 học sinh nam. Hỏi số học sinh nào nhiều hơn và nhiều hơn bao nhiêu bạn?

.....

.....

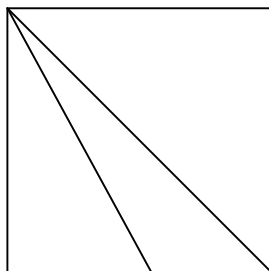
.....

.....

.....

**Bài 5:** Hình vẽ sau có bao nhiêu hình tam giác? bao nhiêu hình tứ giác?

Kể tên các hình đó?



.....

.....

.....

## PHIẾU ÔN TẬP SỐ 3

### Phần I: Trắc nghiệm

1. Số liền sau của số chẵn lớn nhất có một chữ số là:

A. 8

B. 9

C. 10

2. Hiệu của số lớn nhất có hai chữ số mà chữ số hàng chục là 7 và số lớn nhất có một chữ số là:

A. 79

B. 70

C. 8

3. Số liền trước của số 80 là:

A. 78

B. 79

C. 81

4. Dấu thích hợp để điền vào chỗ chấm của:  $56\text{cm} \dots\dots 5\text{dm}$

A. Dấu  $>$

B. Dấu  $<$

C. Dấu  $=$

5. Một Con rùa ban ngày đã bò được đoạn đường dài  $47\text{cm}$ , ban đêm nó bò tiếp được  $33\text{cm}$ . Hỏi con rùa đã bò được đoạn đường dài bao nhiêu đề - xi - mét?

A.  $80\text{ cm}$

B.  $80\text{dm}$

C.  $8\text{dm}$

### PHẦN II: LÀM CÁC BÀI TẬP SAU

#### Bài 1: Đặt tính rồi tính

$$45 + 36$$

$$72 - 54$$

$$41 - 18$$

$$49 + 45$$

.....

.....

.....

#### Bài 2: Tính nhanh

a,  $47 + 19 + 11 + 23$

b,  $35 + 38 - 28 - 5$

.....

.....

.....

#### Bài 3: Tìm x

a,  $x + 24 = 79$

b,  $35 + x = 28 + 48$

.....  
.....  
.....

.....  
.....  
.....

**Bài 4:** Tính

$2\text{dm } 8\text{cm} + 7\text{cm} = \dots\dots\dots$

$= \dots\dots\dots$

$6\text{dm } 7\text{cm} - 4\text{dm } 3\text{cm} = \dots\dots\dots$

$= \dots\dots\dots$

**Bài 5:** Từ các chữ số 4; 6; 3 em hãy lập tất cả các số chẵn có hai chữ số rồi xếp các số đó theo thứ tự từ bé đến lớn?

.....  
.....  
.....  
.....

**Bài 6:**

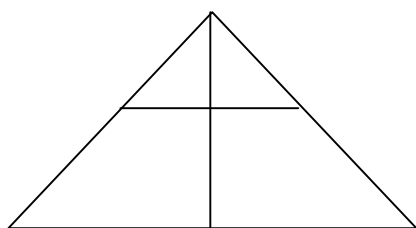
Lan có một sợi dây dài 9dm. Sau khi Lan cắt bớt một đoạn thì sợi dây còn lại dài 20cm.

Đố em Lan đã cắt bớt bao nhiêu xăng - ti - mét?

Bài giải

.....  
.....  
.....  
.....

**Bài 7:** Hình vẽ sau có bao nhiêu hình tam giác? Kể tên các hình đó?



.....  
.....  
.....  
.....

## PHIẾU ÔN TẬP SỐ 4

### Phần I: Trắc nghiệm

1. Số 90 là số liền sau của:

A. 91

B. 89

C. 92

2. Số 69 là số liền trước của:

A. 68

B. 70

C. 71

3. Tổng của số chẵn lớn nhất có một chữ số và số liền sau của nó là:

A. 17

B. 18

C. 19

4. Hiệu của số chẵn lớn nhất có hai chữ số và số lẻ bé nhất có một chữ số là:

A. 99

B. 97

C. 98

5. Nhà bạn Hà nuôi một đàn vịt, mỗi ngày thu được 15 quả trứng. Hỏi 3 ngày nhà bạn Hà thu được bao nhiêu quả trứng?

a, 18 quả trứng

b, 45 quả trứng

6. Số nào thêm 23 thì được 57?

A. 80

B. 34

### Phần II: Làm các bài tập sau

#### Bài 1: Đặt tính rồi tính

$$65 + 35$$

$$62 - 59$$

$$81 - 23$$

$$36 + 64$$

.....

.....

.....

#### Bài 2: Tìm y

$$y + 22 = 56$$

$$30 + y = 73 - 9$$

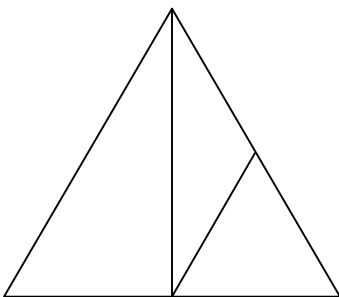
.....

.....

.....

Bài 3: Lan có một số bông hoa. Nếu Hà cho thêm Lan 23 bông hoa thì Lan sẽ có 38 bông hoa. Hỏi lúc đầu Lan có bao nhiêu bông hoa?

**Bài 4:** Hình vẽ sau có mấy hình tam giác, mấy hình tứ giác? Kể tên các hình đó?





## PHIẾU ÔN TẬP SỐ 5

### **Phần A:** Khoanh tròn chữ cái đặt trước đáp án đúng

1. Tổng của số lẻ nhỏ nhất có hai chữ số và số chẵn lớn nhất có một chữ số là:

- A. 18                      B. 19                      C. 20                      D. 21

2.  $8\text{dm} + 1\text{cm} + 2\text{cm} = ?$

- A. 11dm                      B. 11cm                      C. 83 dm                      D. 83cm

3. Đúng ghi Đ, sai ghi S

- Có khi nào hiệu của hai số lại bằng số bị trừ không?

Có ☐                      Không ☐

- Có khi nào hiệu của hai số lại bằng số trừ không?

Có ☐                      Không ☐

- Có khi nào hiệu của hai số lại bằng 0 không?

Có ☐                      Không ☐

4. Có hai con gà, mỗi con đẻ 9 quả trứng. Hỏi tất cả có bao nhiêu quả trứng?

- A. 11 quả trứng ☐                      B. 18 quả trứng ☐

5. An 7 tuổi. An kém chị 5tuổi. Hỏi chị bao nhiêu tuổi?

- A. 2 tuổi ☐                      B. 12 tuổi ☐

### **Phần B:**

#### **Bài 1:** Đặt tính rồi tính

$100 - 36$

$100 - 24$

$100 - 75$

$100 - 52$

.....  
.....  
.....

#### **Bài 2:** Tìm x

$a, x + 23 = 57 - 12$

$b, 20 + x = 24 + 19$

.....  
.....

**Bài 3:** Viết tất cả các số có hai chữ số mà chữ số hàng chục kém chữ số hàng đơn vị là 4?

**Bài 4:** Năm nay Lan 12 tuổi. Lan kém chị Hồng 2 tuổi. Hỏi chị Hồng bao nhiêu tuổi?

Tóm tắt

Bài giải

**Bài 5:** Hình sau có bao nhiêu hình tam giác? Bao nhiêu hình tứ giác? Kể tên các hình đó?

